

# 【雪ミク】 Aの駅 謎のヒント

札幌 = hE:SI

のとき

ミュンヘン = □□:□

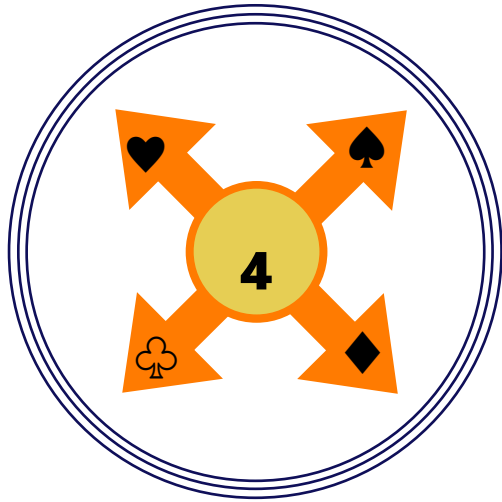
□□:□P = 「□□□□」

- (1) まずはAの駅の5番出口付近に行ってみましょう！  
どこかに時計が設置されています。
- (2) 時計を見ながら、手元にある問題用紙を上下逆にしたりし考えてみましょう。  
★さらにヒント★  
「hE:SI」を必ずしも英語として読むとは限りません。
- (3) 最終的に、「□□□□」が答えとなります。

答えとして導いた言葉は、スタンプ台紙の空きスペースなどにメモしておくで後から役に立ちます！

他のお客様との接触事故防止のため、歩きながらのスマートフォン等の操作はご遠慮願います。  
また、イベント参加時は周囲をよく確認し、他の方へご配慮いただきますようお願いいたします。

# 【雪ミク】 Bの駅 謎のヒント



- (1) 駅のどこかの出口へ行くと、左の図と同じ看板を見つけることができます。
- (2) ♥♠♣♦が示すものがわかったら、台紙に掲載されているメッセージを解読してみましょう。

## ★さらにヒント★

ここでの「交わり」は、地下鉄の路線図を参考にするとわかるかもしれません。

ここで導かれる言葉（駅名）が答えとなります。

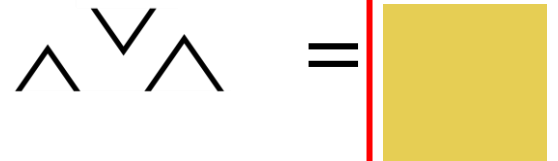
答えとして導いた言葉は、スタンプ台紙の空きスペースなどにメモしておくで後から役に立ちます！

他のお客様との接触事故防止のため、歩きながらのスマートフォン等の操作はご遠慮願います。  
また、イベント参加時は周囲をよく確認し、他の方へご配慮いただきますようお願いいたします。

# 【雪ミク】 Cの駅 謎のヒント



(1) 上の暗号は、駅のホームにあるタイル壁画を表しています。



(2) こちらも、左の暗号同じように駅構内のタイル壁画を表しています。  
ちなみにホームではありません。  
(1)と同じ法則で、黄色い四角に当てはまる英語を考えてみましょう。

(3) 向かった先にヒントのポスターが掲出されております。(駅構内にございます。)  
このヒントを解いてみると、とある駅の特徴に関する文章が出てきます。  
該当する駅の名前が問題の答えとなります。


答えとして導いた言葉は、スタンプ台紙の空きスペースなどにメモしておくで後から役に立ちます！

他のお客様との接触事故防止のため、歩きながらのスマートフォン等の操作はご遠慮願います。  
また、イベント参加時は周囲をよく確認し、他の方へご配慮いただきますようお願いいたします。


# 【雪ミク】Dの駅 謎のヒント

(1) スタンプ台紙に掲載されている謎について

①それぞれの四角には文字が1文字ずつ入ります。それぞれの矢印は、通っている四角の数と同じ文字数のものを表しています。

②  ←この二重線のマスには同じ文字が入ります。

③「この場所」は今いる建物のことを意味します。

④  ←これは“くしゃみ”ではありません。“〇〇（2文字）”を表現しております。

⑤ オレンジ色の矢印が指す人がいる位置を考えてください。







⑥ 黄色い★は「ほし」とは読まず、英語で考えてみると…

(2) 駅に掲出されているヒントに書いてある言葉について  
それぞれの四角には文字が1文字ずつ入ります。  
“14分後”が何を表しているかよく考えてみましょう。

答えとして導いた言葉は、スタンプ台紙の空きスペースなどにメモしておくで後から役に立ちます！

他のお客様との接触事故防止のため、歩きながらのスマートフォン等の操作はご遠慮願います。  
また、イベント参加時は周囲をよく確認し、他の方へご配慮いただきますようお願いいたします。

# 【雪ミク】 Eの駅 謎のヒント

↑ 駅ナンバリングが示している駅名をそれぞれ右の枠内に漢字で入れてみましょう。

答えとして導いた言葉は、スタンプ台紙の空きスペースなどにメモしておくで後から役に立ちます！

他のお客様との接触事故防止のため、歩きながらのスマートフォン等の操作はご遠慮願います。  
また、イベント参加時は周囲をよく確認し、他の方へご配慮いただきますようお願いいたします。

# 雪ミクコース最終問題 ヒント

## LAST QUESTION

T19 ③	T13 ②	H01 ①	T13 ④	T03 ①	N07 ①	T19 ⑤	T13 ⑥
----------	----------	----------	----------	----------	----------	----------	----------

※各問題の解答はすべてひらがなに直して入力せよ。

- ★上段の「T19」などは地下鉄の駅ナンバリング表示を示しております。
- ★下段の数字が示しているものは、各自で考えてみましょう。

とある法則をもとにすべての四角に文字を1つずつ埋めるとゴールスタンプが設置されている駅にまつわるヒントがわかります！  
このヒントをもとにスタンプ台紙をじっくり確認してみましょう！

他のお客様との接触事故防止のため、歩きながらのスマートフォン等の操作はご遠慮願います。  
また、イベント参加時は周囲をよく確認し、他の方へご配慮いただきますようお願いいたします。