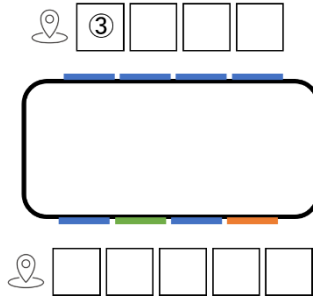
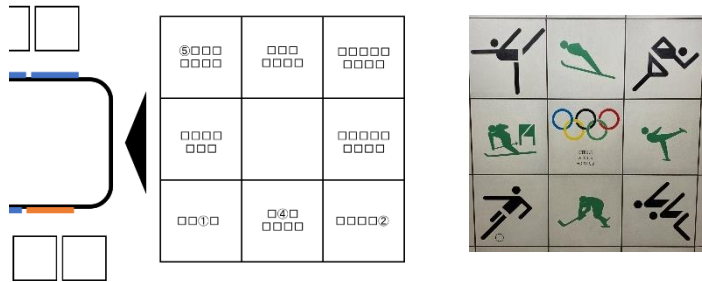


# 【ウォーキング】 Aの駅 謎のヒント



(1) 左側の図は、Aの駅に飾られている過去のオリンピックポスターの掲出位置を示しています。設問内の□の左隣にはマップのピンのマークがあるので、そこから□に入る言葉を考えてみましょう。



(2) 右側の9マス図は、矢印が指している場所に書かれている競技を表すピクトグラムを示しています。四角にあてはまる言葉を考えてみましょう。

(3) 全ての□を埋めたら、ピクトグラムと反対側の壁面に書かれている文章をよく見てみましょう。問題と照らし合わせると、とある法則が見えてきます！

答えとして導いた言葉は、スタンプ台紙の空きスペースなどにメモしておくと後から役に立ちます！

他のお客様との接触事故防止のため、歩きながらのスマートフォン等の操作はご遠慮願います。また、イベント参加時は周囲をよく確認し、他の方へご配慮いただきますようお願いいたします。

# 【ウォーキング】Bの駅 謎のヒント

- (1) 問題内の「ガンバレ！北極星の戦士よ」について  
「ガンバレ」は、とあるスポーツチームの名前の由来、  
「北極星」・「戦士」についても、とあるスポーツチームの名前の由来となっております。  
これを踏まえて、駅構内を探索してみましょう。
- (2) 問題内の数字について  
数字の色に注目してみましょう。  
また、イコールで結ばれている数字が何を示しているか考えてみましょう。

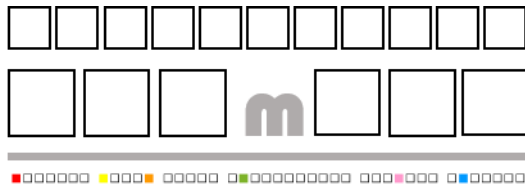
これらをもとに駅構内で見つけた物の下部を見てみると何かがわかるかも…！

答えとして導いた言葉は、スタンプ台紙の空きスペースなどにメモしておくで後から役に立ちます！

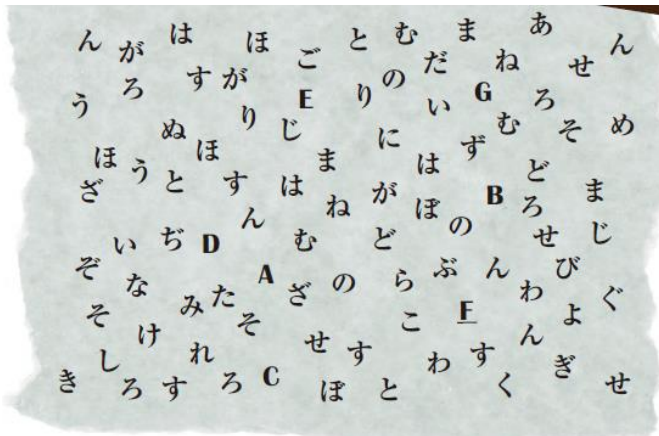
他のお客様との接触事故防止のため、歩きながらのスマートフォン等の操作はご遠慮願います。  
また、イベント参加時は周囲をよく確認し、他の方へご配慮いただきますようお願いいたします。

# 【ウォーキング】Cの駅 謎のヒント

- (1) Cの駅2番出口にさらなるヒントが掲出されています！  
まずは確認してみましょう。



- (2) 左の図と同じデザインのを500m美術館のどこかで発見することができます。(1)で発見したヒントと照らし合わせて考えてみましょう。



- (3) (2)で導き出したヒントと同じ言葉が、台紙のどこかに書いています。この言葉の直前に書かれている言葉を問題の図（左の図）において、1文字ずつ順番に線で結んでみると…  
線で結んだ後に、さらなるヒントが見えてくるはずです！
- (4) (3)で解読したヒントをもとにスタンプ台紙内の“地下鉄新聞”をよく読んでみると答えとなる言葉がわかります！

答えとして導いた言葉は、スタンプ台紙の空きスペースなどにメモしておく後から役に立ちます！

他のお客様との接触事故防止のため、歩きながらのスマートフォン等の操作はご遠慮願います。  
また、イベント参加時は周囲をよく確認し、他の方へご配慮いただきますようお願いいたします。

# 【ウォーキング】Dの駅 謎のヒント

★この問題のヒントがDの駅構内のどこかに掲出されています！

- (1) 駅構内に掲出されている問題をよく見ると、動物が2匹ずつ線でつながっています。これをもとにマス目に配置された動物たちを結んでいくと、とある2つの漢字が浮かび上がります。  
 ★さらにヒント★ 1つ目の漢字は、結果的に「絵柄が反転していない動物（駅の床面タイルと同じもの）」を表します。
- (2) このヒントが意味しているものを、問題の図から探せば謎を解く手がかりとなる3つの漢字が出てきます。



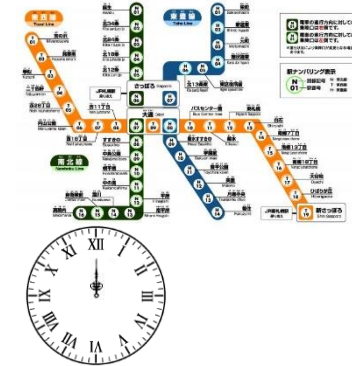
が指し示す駅

(3) (2)で判明した漢字3文字の手がかりと(1)で導いたヒントを総合的に考えてみましょう。

(4) (3)で推測した内容をもとに設問を再度見てみると7つの漢字が浮かびあがります。

これらの漢字が意味するものをふまえて、スタンプ台紙に印刷されている地下鉄路線図（右の図）を確認してみると答えとなる言葉（駅名）がわかります。

▼スタンプ台紙に掲載されている地下鉄路線図と謎の時計



答えとして導いた言葉は、スタンプ台紙の空きスペースなどにメモしておくその後から役に立ちます！

他のお客様との接触事故防止のため、歩きながらのスマートフォン等の操作はご遠慮願います。  
 また、イベント参加時は周囲をよく確認し、他の方へご配慮いただきますようお願いいたします。

# 【ウォーキング】 Eの駅 謎のヒント

$$\begin{array}{r} 6810 \quad 901 \quad 310 \quad 600 \\ 810 \quad 7501 \quad 3210 \quad 900 \end{array} = \begin{array}{cccc} \square & \square & \square & \square \\ \square & \square & \square & \square \end{array}$$

↓

地下鉄○○線

(1) 設問の数字を漢数字に変換してみて、四角に入る数字を考えてみましょう。

(2) (1)で判明した2つの数字をEの駅の通路に飾られているパネルの中から探してみましょう。  
すると、路線名(○○線)がわかります。



(3) 「答えは○○の□にある」の四角は、よく見てみるとスタンプ台紙の他の場所にも同じデザインの四角があります。  
ここから四角に当てはまる文字を考えてみましょう。

(4) (3)で導いた言葉をもとに、Dの駅の設問を見てみましょう！

答えとして導いた言葉は、スタンプ台紙の空きスペースなどにメモしておくで後から役に立ちます！

他のお客様との接触事故防止のため、歩きながらのスマートフォン等の操作はご遠慮願います。  
また、イベント参加時は周囲をよく確認し、他の方へご配慮いただきますようお願いいたします。

# 【ウォーキング】特別ポイント 謎のヒント

ご存じですか？ もいわ山ロープウェイには公式曲があります。

山=ロープウェイ

君=夢

- (1) スタンプ台紙に掲出されたヒントともいわ山ロープウェイ山麓駅の展示物に載っている歌詞を見比べてみましょう。
- (2) (1)で判明した法則をもとに、山麓駅に掲出されている謎が掲載されたポスター見てみると①～③に入る言葉がわかります。
- (3) ①と②をスタンプ台紙に掲出されたヒント（左の図）に当てはめてみると、全ての丸に入る言葉が推測できます。

答えとして導いた言葉は、スタンプ台紙の回答スペースに書き込みましょう！

他のお客様との接触事故防止のため、歩きながらのスマートフォン等の操作はご遠慮願います。  
また、イベント参加時は周囲をよく確認し、他の方へご配慮いただきますようお願いいたします。

# ウォーキングコース最終問題 謎のヒント

## LAST QUESTION

H11 ①	T06 ③	T10 ①	T10 ②	T06 ④	T10 ②	N02 ③	T06 ②	H07 ④
----------	----------	----------	----------	----------	----------	----------	----------	----------

※各問題の解答はすべてひらがなに直して入力せよ。

- ★上段の「H11」などは地下鉄の駅ナンバリング表示を示しております。
- ★下段の数字が示しているものは、各自で考えてみましょう。

とある法則をもとにすべての四角に文字を1つずつ埋めるとゴールスタンプが設置されている駅にまつわるヒントがわかります！

他のお客様との接触事故防止のため、歩きながらのスマートフォン等の操作はご遠慮願います。  
また、イベント参加時は周囲をよく確認し、他の方へご配慮いただきますようお願いいたします。